



وزارة التربية

إدارة الشؤون التعليمية
مؤابية الامتحانات وشؤون الطلبة



نموذج الإجابة

المرحلة المتوسطة

اختبارات نهاية الفترة الدراسية الثاني

المادة : الاجتماعيات

الصف : السابع

العام الدراسي

2018 / 2017



المجال الدراسي : (اجتماعيات)
عدد الأوراق : (5 صفحات)
نموذج الإجابة

امتحان نهاية الفصل الدراسي الثاني
للفص السابع المتوسط
للعام الدراسي 2017 / 2018 م

وزارة التربية
الإدارة العامة لمنطقة مبارك الكبير التعليمية
التوجيه الفني للاجتماعيات

نموذج الإجابة

السؤال الأول : يتكون من (أ - ب - ج - د - هـ - و) .

(أ) : أكمل العبارات التالية بما يناسبها فيما درست :- (لكل جزئية درجة) 6 درجات

- 1- الغلات التي تزرع بغرض التجارة والحصول على النقد اسمها الغلات النقدية ص 113
- 2- تم إنشاء الصندوق الكويتي للتنمية الاقتصادية العربية في عام 1961 ص 179
- 3- تسجيل المواليد والوفيات وحالات الزواج والطلاق يسمى الإحصاء الحيوي ص 99
- 4- عقد أول مؤتمر للمانحين لدعم الوضع الإنساني في سوريا بدولة تسمى الكويت ص 188
- 5- بقاء عناصر البيئة في حالة من التوازن مصطلح يطلق على التوازن البيئي ص 170
- 6- يبلغ عدد دول الوطن العربي 22 دولة ص 99

(ب) ضع خطاً تحت الخيار الصحيح من بين الخيارات التي تلي كل عبارة : (لكل جزئية درجة) 6 درجات

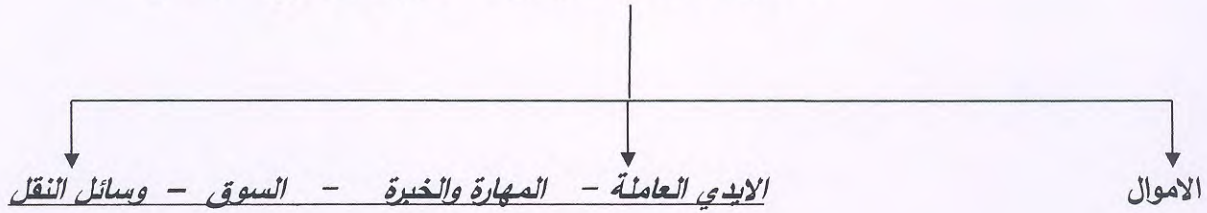
- 1- عقد مؤتمر قمة الأرض في مدينة ريودي جانيرو بالبرازيل في عام :
(1990 - 1991 - 1992 - 1993) ص 167
- 2- مقومات الانتاج الزراعي الطبيعية هي :
(رأس المال - المناخ - جهد الانسان - التقدم التكنولوجي) ص 111
- 3- يبلغ عدد الدول المؤسسين لجامعة الدول العربية:
(6 دول - 7 دول - 8 دول - 9 دول) ص 178
- 4- تبلغ نسبة سكان الوطن العربي في الجناح الآسيوي
(30% - 50% - 70% - 80%) ص 99
- 5- الصناعات الاولى في العالم وتستخدم مواد اوليه محليه تسمى الصناعات
(التعدينية - التحويلية - الحرفية - التجميعية) ص 143
- 6- تبلغ مساحة الوطن العربي :
(12.5 مليون كم² - 13.5 مليون كم² - 14.5 مليون كم² - 15.5 مليون كم²) ص 99

(ج) أكمل المخطط السهمي التالي : (لكل جزئية درجة) 7 درجات

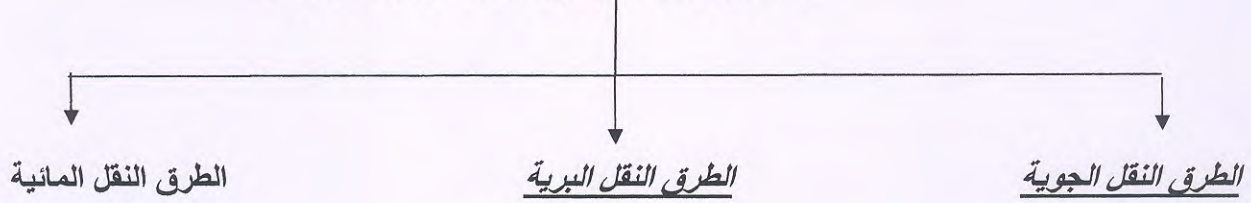
1- أنواع التلوث البيئي ص 167



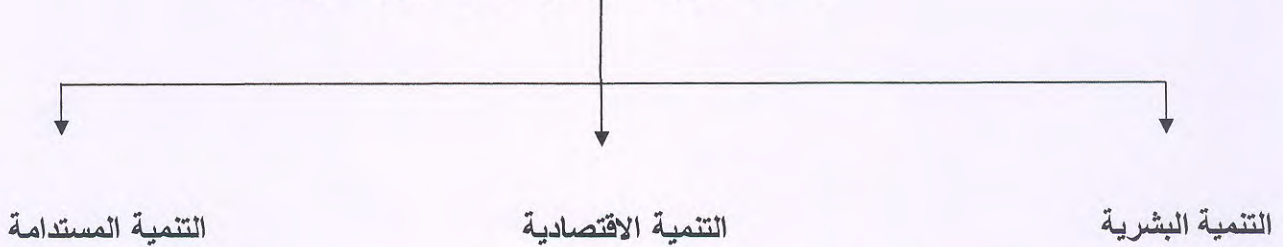
2- مقومات الصناعة البشرية ص 139 يكتفى بنقطتين



3- انواع طرق النقل في الوطن العربي ص 147



4- اهم محاور التنمية في الوطن العربي ص 173



(د) صنف الغلات التالية حسب الجدول: (لكل جزئية نصف درجة) 3 درجات ص 113
(الأرز - العنب - الشمندر - الشعير - البن - الموز)

الحبوب الغذائية	فواكه وثمار	غلات صناعية وتجارية
- الأرز	- العنب	- البن
- الشعير	- الموز	- الشمندر

(هـ) أختار للمجموعة (أ) ما يناسبها من المجموعة (ب) بوضع الرقم المناسب : (لكل جزئية درجة)

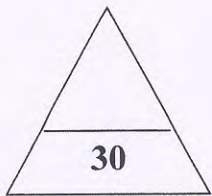
3 درجات ص 143-142-141

الرقم	المجموعة (أ)	الرقم	المجموعة (ب)
1	تحويلية	(4)	الصناعة البشوت
2	تجميعية	(3)	النفط
3	استخراجية	(2)	سيارات
4	حرفية	()	

(و) : لاحظ خريطة الوطن العربي الصماء ثم أجب عن الأسئلة التي تليها :- (لكل جزئية درجة) 5 درجات



- رمز Δ يشير الى اكبر دولة في الوطن العربي من حيث المساحة تسمى الجزائر ص 100
- حدد موقع البحر الأحمر وضع عليه الرمز $///////$ ص 150
- حدد موقع أكثر دولة في الوطن العربي من حيث السكان وضع عليه رمز # ص 100
- حدد موقع الدولة التي تحتل المركز الأول عربيا بإنتاج الحديد بوضع عليها رمز \star ص 133
- ارسم مسار نهر النيل على خريطة الوطن العربي ص 149



السؤال الثاني : يتكون من (أ - ب - ج) (لكل جزئية درجة) 5 درجات

(أ) : علل لما يأتي (أذكر السبب) :-

1- تدني وفرة المياه بالوطن العربي .

• النمو السريع للسكان

• 50% من الموارد المائية في العالم تأتي من خارج حدوده ص 164

• الطرق التقليدية المستخدمة في استغلال المياه في معظم مناطق العالم العربي مسؤولة عن تدني نسبة المياه

• الشبكات المؤهلة لنقل المياه شبكات قديمة

• افتقار الدول العربية إلى برامج لإدارة المياه اختلاف

• 2- اختلاف المنتجات الزراعية من دولة إلى أخرى .

• اختلاف المناخ / التربة / مدى توافر المياه ص 110

• 3- يطلق على الغاز الطبيعي اسم الطاقة النظيفة .

• لا ينتج عن احتراقه ظهور الملوثات التي تنتج عن احتراق المنتجات النفطية ص 131

• لا يوجد به مادة الكبريت

• لا يسبب تلوث بيئي

• 4- تنوع الثروة المائية بالوطن العربي .

• ذلك لأن دول الوطن العربي دولاً ساحلية وتطل على عدة مسطحات مائية منها العذبة والمالحة ص 122

• 5- تقوم الدول من حين إلى آخر بإجراء تعداد لسكانها .

• لتحصل الدولة على معلومات وافيه عن أوضاع سكانها ص 99

(ب) : فرق بين كل مما يلي: (لكل جزئية درجة) 6 درجات

-1

واردات	صادرات
• السلع التي تشتريها الدولة من الخارج لسد احتياجاتنا	• السلع التي تنقل من دولة إلى دولة أخرى .

-2

هجرة خارجية	هجرة داخلية
• من دولة إلى دولة أخرى .	• من القرى إلى المدن .

-3

الموارد البشرية	الموارد الطبيعية
• تلك الموارد التي ترتبط بالسكان من حيث اعدادهم وتوزيعهم ومناسبة اعدادهم لمساحة الارض التي يستغلونها	• الثروات التي منحها الله لاقليم ما دون ان يكون للانسان دخل في وجودها

(ج) : أقرأ الفقرة التالية ثم أجب عما يليها من الأسئلة :- (لكل جزئية درجة) 4 درجات

" المجتمعات لا يمكن أن تتقدم أو تنمو اقتصادياً أو سياسياً أو اجتماعياً بدون إعداد للقوى البشرية ، فالبشر هم الثروة الحقيقية للأوطان فيجب إعداد البشر إعداداً جيداً والاهتمام بالتنمية وخصوصاً التنمية البشرية . "

1- عرف ما تحته خط .

• تعني التطور و التطوير و هي عملية تتطلب التخطيط و المشاركة من الجميع . ص 172

2- عدد أهداف التنمية البشرية . (يكتفى بثلاث نقاط)

• الاهتمام بالطفل العربي - رفع كفاءة الثروة البشرية علمياً وفكرياً وروحياً ص 174

• توفير فرص العمل - تعميق المشاركة في الرأي والحوار في ظل الديمقراطية

السؤال الثالث : يتكون من (أ - ب - ج)

(أ) : عرف المفاهيم التالية : (لكل جزئية درجة) 4 درجات

1- التضامن العربي : العمل على توثيق الصلات بين الدول والشعوب العربية وحماية مصالحها السياسية الاقتصادية والثقافية

ص 177

2- تصحّر : زحف رمال الصحراء على المناطق الجافة وشبه الجافة

ص 162

3- التلوث : هو الضرر الذي يلحق بالتربة والهواء والماء ويصيب التلوث عناصر البيئة من عدة مصادر للملوثات

ص 166

4- التجارة البيئية : التبادل التجاري بين الدول العربية

ص 152

(ب) : اجب عن الأسئلة التالية : (لكل جزئية درجة) 8 درجات (يكتفى بنقطتين)

ص 161

- 1- اكتب العقبات التي تواجه الانتاج الزراعي في الوطن العربي .
 - عدم استغلال الاراضي القابلة للزراعة لندرة مياه الري او تذبذب الامطار او قلة الايدي العاملة
 - اتباع طرق الزراعة التقليدية في معظم اجزاء الوطن العربي
 - زحف الرمال (التصحر) و انجراف التربة
 - تلوث التربة نتيجة للإسراف في استخدام المبيدات الحشرية وارتفاع نسبة ملوحة التربة
 - الرعي الجائر .

ص 186

- 2- أهداف القمة الاقتصادية التنموية العربية .
 - إنشاء بنك عربي لتمويل شتى المشاريع التنموية
 - القضاء على البطالة والفقر بتوفير فرص العمل
 - الاستثمار الاقتصادي بين الدول العربية وتقوية التبادل التجاري
 - الاعتناء بالعنصر البشري والتنمية المستدامة

ص 145

- 3- اهداف الصناعات البتروكيميائية :
 - تنويع مصادر الدخل للدول المنتجة
 - توفير المواد الاولية للصناعات التحويلية
 - تطوير الصناعات البتروكيميائية الي تقنيات متخصصة وعالية .

ص 118

- 4- تحتل الأغنام العربية مكانا مهما ضمن الثروة الرعوية .
 - - الأكثر انتشارا في المراعي العربية
 - أكثر الحيوانات المستأنسه والملائمة لمراعي الوطن العربي
 - لأهميه منتجاتها بالنسبة للسكان
 - لأنها مصدر أساسي من مصادر الثروه القومية

- (ج) : قارن بين كل من مما يلي :

وجه المقارنة	منظمة الأوبك ص 134	منظمة الأوبك ص 135
عام التأسيس	1960	1968
المقر	فيينا	الكويت
الأهداف	<u>الحرص على استقرار أسعار النفط في الأسواق العالمية</u>	<u>تعميق التعاون بين الدول المنتجة للنفط – تأمين وصول النفط إلى الأسواق الاستهلاكية – تسهم في تطوير الصناعات البتروولية</u>

انتهت الأسئلة مع تمنياتنا لكم بالتوفيق